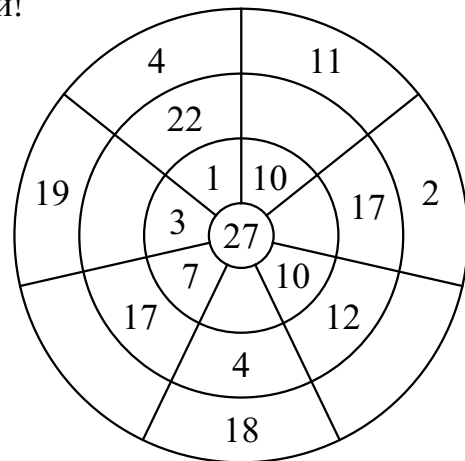
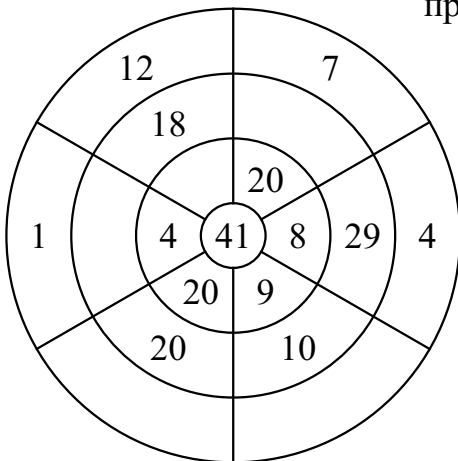


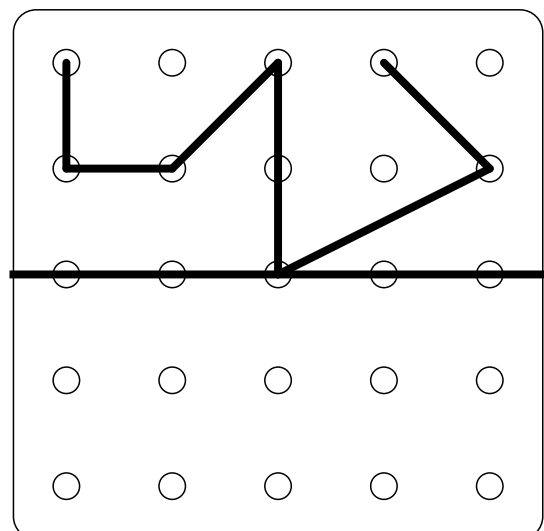
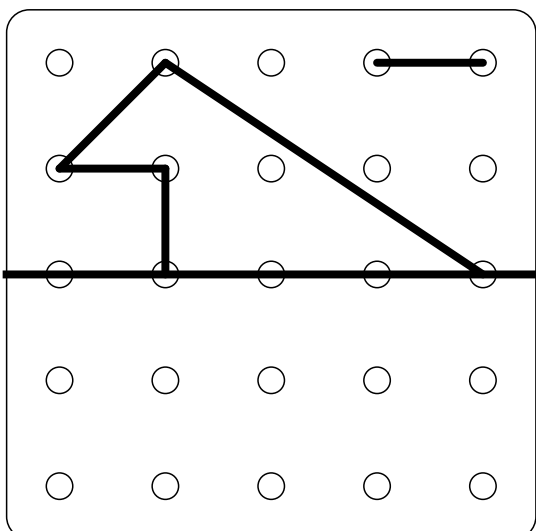
Реши примеры столбиком.

		7 8			6 2			2		7 3			7 1			8	
+		2		+	1 2			+	5 6			+	2			+	8 3
_____		_____		_____		_____		_____		_____		_____		_____		_____	
		8 5			9			7 7		1 5			2 3			4 0	
+		1		+	8			+	2 0			+	4 6			+	4 5
_____		_____		_____		_____		_____		_____		_____		_____		_____	

Сумма чисел каждого сектора должна быть равна числу в центре круга. Заполни пропуски!



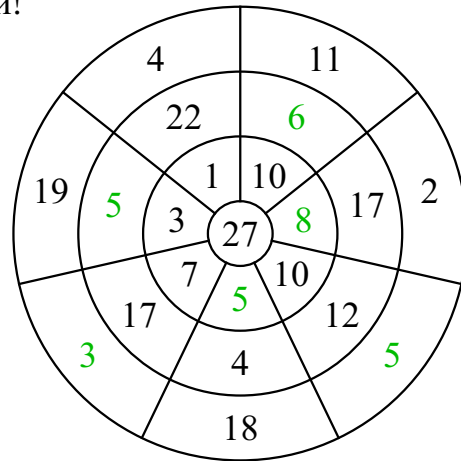
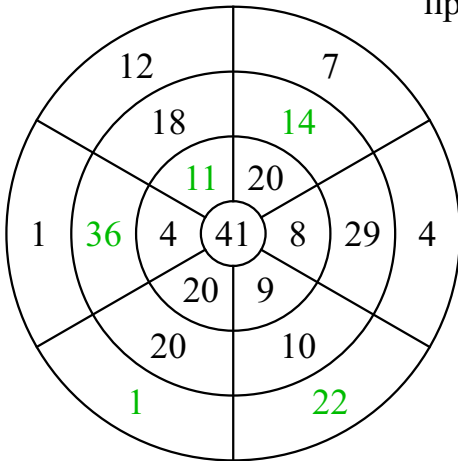
Рисование по точкам. Дорисуй так, как показано на верхней части рисунка.



Реши примеры столбиком.

		7 8		6 2		2		7 3		7 1		8
	+	2		+ 1 2		+ 5 6		+ 1 9		+ 2		+ 8 3
		<sup>1</sup>						<sup>1</sup>				<sup>1</sup>
		<hr/>		<hr/>		<hr/>		<hr/>		<hr/>		<hr/>
		8 0		7 4		5 8		9 2		7 3		9 1
		8 5		9		7 7		1 5		2 3		4 0
	+	1		+ 8		+ 2 0		+ 3 0		+ 4 6		+ 4 5
				<sup>1</sup>								
		<hr/>		<hr/>		<hr/>		<hr/>		<hr/>		<hr/>
		8 6		1 7		9 7		4 5		6 9		8 5

Сумма чисел каждого сектора должна быть равна числу в центре круга. Заполни пропуски!



Рисование по точкам. Дорисуй так, как показано на верхней части рисунка.

